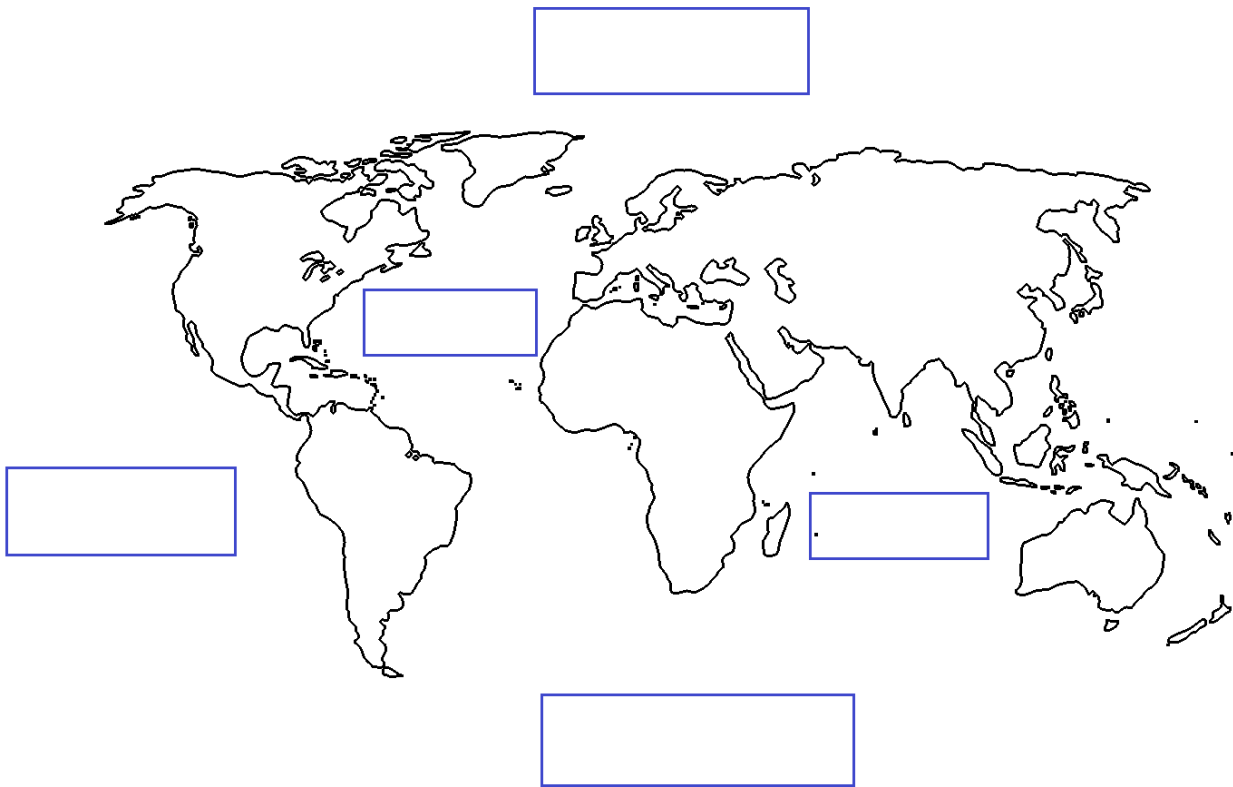


## El planeta en que vivimos

- Ejercicios

---

- I. En el siguiente mapa ubica los océanos que existen en el planeta Tierra



II. En el siguiente mapa pinta con distintos colores los continentes que conoces y nómbralos.

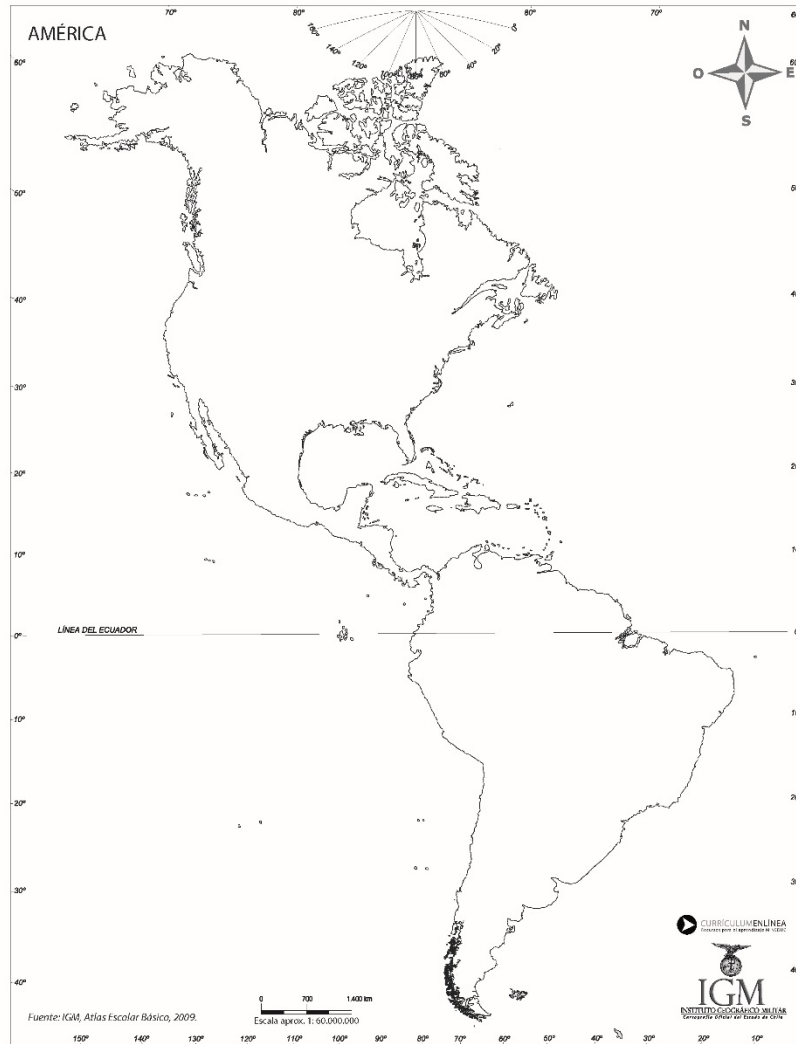
- Considera a América como una sola
- Puedes crear una simbología o escribir el nombre encima.



III. Por cada uno de los continentes menciona tres países que se ubiquen en ese espacio físico.

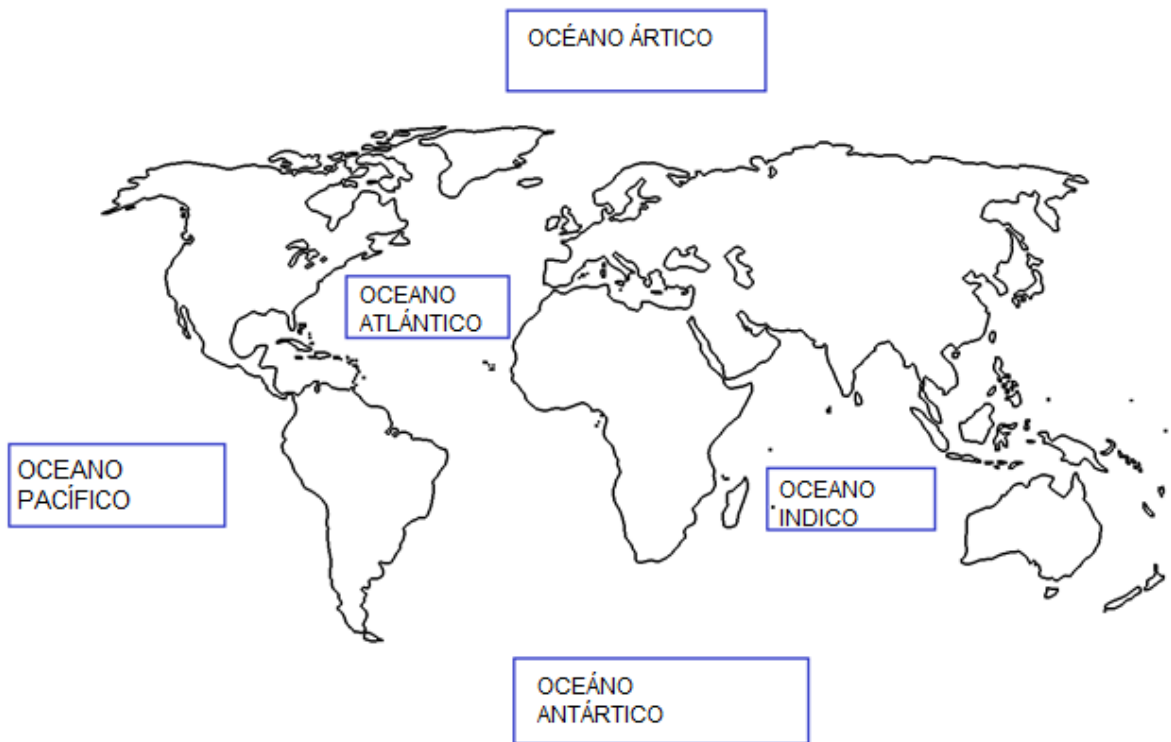
<b>CONTINENTE</b>	<b>PAÍSES</b>
AMÉRICA	1. 2. 3.
OCEANÍA	1. 2. 3.
ÁFRICA	1. 2. 3.
ASIA	1. 2. 3.
EUROPA	1. 2. 3.

IV. En el siguiente mapa de América identifica las tres grandes regiones del continente. Puedes pintarlas y escribir sus nombres.



- Respuesta \_\_\_\_\_

I. En el siguiente mapa ubica los océanos que existen en el planeta Tierra



II. En el siguiente mapa pinta con distintos colores los continentes que conoces y nómbralos.

- Considera a América como una sola
- Puedes crear una simbología o escribir el nombre encima.



III. Por cada uno de los continentes menciona tres países que se ubiquen en ese espacio físico.

\*Los siguientes son solo ejemplos, si tienes otros anotados, confirma con un adulto.

CONTINENTE	PAÍSES
AMÉRICA	1. Chile 2. Argentina 3. Bolivia
OCEANÍA	1. Australia 2. Nueva Zelanda 3. Tonga
ÁFRICA	1. Egipto 2. Sudáfrica 3. Namibia
ASIA	1. India 2. Vietnam 3. Japón
EUROPA	1. Mónaco 2. Francia 3. Ucrania

IV. En el siguiente mapa de América identifica las tres grandes regiones del continente. Puedes pintarlas y escribir sus nombres.



Archivo editorial.

### América del Norte

Se ubica en el hemisferio norte y sus tres países tienen un gran tamaño.

### América Central y el Caribe

Está en el hemisferio norte y, aunque es una región más pequeña que las otras, posee varios países e islas.

### América del Sur

La mayor parte de esta región pertenece al hemisferio sur. Tiene numerosos países con diferentes extensiones.